



## PRUEBA TEORICA-PRACTICA PEÓN DE FONTANERÍA

Nombre: \_\_\_\_\_

D.N.I: \_\_\_\_\_

Respuestas correctas: \_\_\_\_\_

Puntuación: \_\_\_\_\_

Nota:

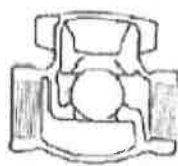
Marque con una X la respuesta correcta,

Sí te equivocas envuelve la incorrecta en un círculo (X)

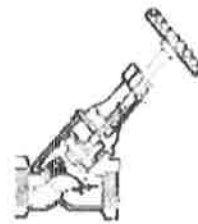
- 1) Tienes en almacén estas válvulas y tú oficial necesita, una válvula de compuerta de discos paralelos. ¿Cuál de las siguientes figuras, representa la válvula solicitada?:



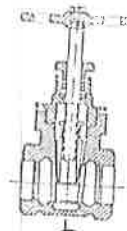
a)



b)



c)



d)



e)

↳ CORRECTA

- 2) Si te pido que me pases de la caja de herramientas la denominada "HEAVY DUTY". ¿Cual de ellas me darías?:



a)



b)

↳ CORRECTA



c)



d)



e)



f)



3) ¿Cuál las siguientes piezas de cobre, es un "Codo 90° Mixto"?:



a)



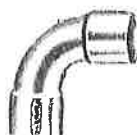
b)



c)



d)



e)



f)

→ CORRECTA



g)



h)



i)



j)



k)



l)



m)



n)

4) ¿Cuál de las piezas representadas en el punto anterior, es una "Derivación a 90°"?:

a)

b)

c)

d)

e)

f)

g)

h)

i)

j)

k)

l)

m)

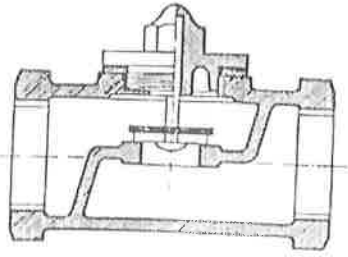
n)

2 de 3

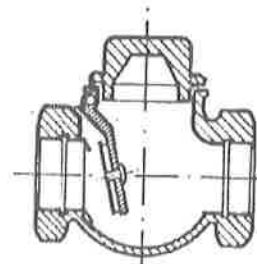
→ CORRECTA



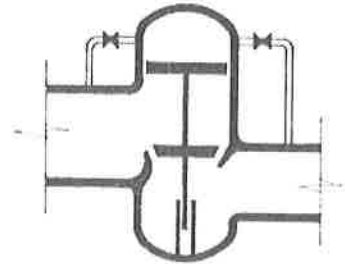
5) ¿Cuál de las figuras siguiente, representa el funcionamiento de una valvula de retención de "Clapeta vertical":



a)



b)



c)

↳ CORRECTA.

Firma: \_\_\_\_\_